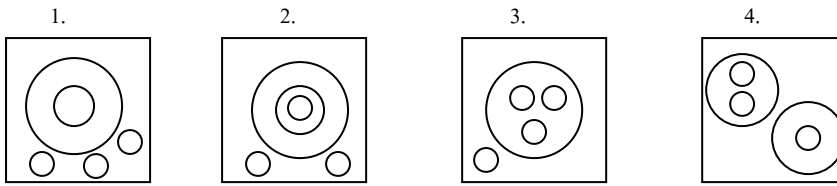


ข้อสอบความถนัดทางวิชาชีพครู

คำชี้แจง จงใช้แผนภาพต่อไปนี้ตอบคำถามข้อ 1-2

พิจารณาคำที่กำหนดให้ว่ามีความสอดคล้องกับแผนภาพใด



- |                     |             |             |               |
|---------------------|-------------|-------------|---------------|
| 1. ดัมพ์อั่งลวดช่อง | หมูย่าง     | หม้อหุงข้าว | อาหาร         |
| 2. สถานีตำรวจ       | สถานีอนามัย | เจ้าอาวาส   | วัด           |
|                     |             |             | สถานที่ราชการ |

ให้ใช้ข้อความต่อไปนี้ตอบคำถามข้อ 3-4

เมฆ หมอก และไม้ แต่ละคนมีสัตว์เลี้ยงของตัวเอง โดยที่สัตว์เลี้ยงแต่ละตัวมีชื่อว่า โบกี้ หวานใจ และปูยี่ผ่าย ซึ่งเป็นชื่อของสุนัข นก และกระต่าย ตามลำดับ ข้อมูลของสัตว์เลี้ยงและเจ้าของมีดังนี้

- 1) กระต่ายวิ่งเล่นกับเจ้าของเมื่อวาน
  - 2) เมฆใส่เสื้อที่ขามา 2 เดือน แล้ว
  - 3) เจ้าของสุนัข ไปขี่ม้าทุกอาทิตย์โดยไปกับเพื่อนคนหนึ่งในสองคน
  - 4) สุนัขเคยกัดหมอก เพราะไม้สู้กัน
3. ใครเป็นเจ้าของกระต่ายน้อย
 

1. เมฆ	2. หมอก	3. ไม้	4. สรุปไม่ได้
--------	---------	--------	---------------
  4. โบกี้เป็นสัตว์เลี้ยงของใคร
 

1. เมฆ	2. หมอก	3. ไม้	4. สรุปไม่ได้
--------	---------	--------	---------------

ให้ใช้ข้อความต่อไปนี้ตอบคำถามข้อ 5-6

ในการสอบวิชาคณิตศาสตร์ คะแนนสอบของนักเรียนแต่ละคนเป็นดังนี้ สมชายได้คะแนนมากกว่าสมศักดิ์ 5 คะแนน แต่สมศรีได้คะแนนน้อยกว่าสมศักดิ์ 3 คะแนน ส่วนสมชาติได้คะแนนมากกว่าสมชาย 2 คะแนน และสมชัยได้คะแนนมากกว่าสมศักดิ์เช่นกัน

5. ใครได้คะแนนมากที่สุด
 

1. สมชาติหรือสมชัย	2. สมศักดิ์หรือสมชาติ	3. สมชาติหรือสมชาย	4. สมชายหรือสมชัย
--------------------	-----------------------	--------------------	-------------------
6. ใครได้คะแนนเป็นอันดับที่สอง
 

1. สมชาย	2. สมชาติหรือสมชาย	3. สมชัยหรือสมชาย	4. สมชาติหรือสมชายหรือสมชัย
----------	--------------------	-------------------	-----------------------------
7. มีรถอยู่ 5 คัน คือ รถคันสีดำ สีแดง สีขาว สีเหลือง และสีส้ม จอดต่อกิวเติมน้ำมันโดย รถคันสีดำจอดต่อจากรถคันที่ถัดจากคันสีเหลือง รถคันสีแดงจอดอยู่หลังรถคันสีดำแต่อยู่หน้ารถคันสีขาว ต่อไปนี้ข้อใดไม่ถูกต้อง
 

1. รถคันสีเหลืองได้เติมน้ำมันเป็นคันแรก	2. รถคันสีแดงอยู่ที่ท้ายแถว
3. รถคันสีส้มจอดเติมน้ำมันเป็นอันดับที่สอง	4. รถคันสีดำอยู่กึ่งกลางแถว
8. พนักงานดับเพลิงคนหนึ่งยืนอยู่บนชั้นกลางของบันไดที่พาดอยู่กับกำแพงแห่งหนึ่งและกำลังไต่ขึ้นไป เมื่อเขาไต่บันไดขึ้นไปได้ 5 ชั้น เขากลับไต่บันไดลงมาอีก 7 ชั้นเพื่อรับของจากเพื่อนและเมื่อเขาไต่บันไดกลับขึ้นไปใหม่อีก 9 ชั้น ปรากฏว่าถึงขั้นสุดท้ายของบันไดพอดี บันไดนี้มีกี่ขั้น
 

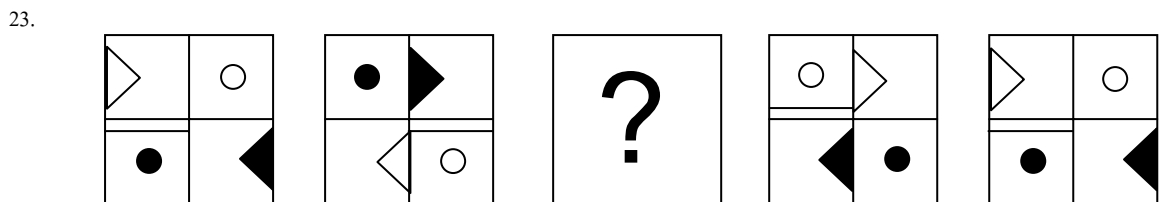
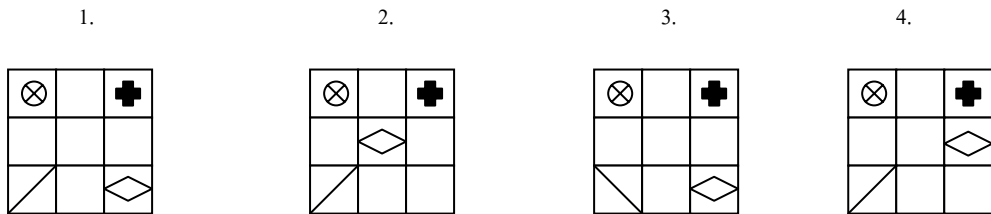
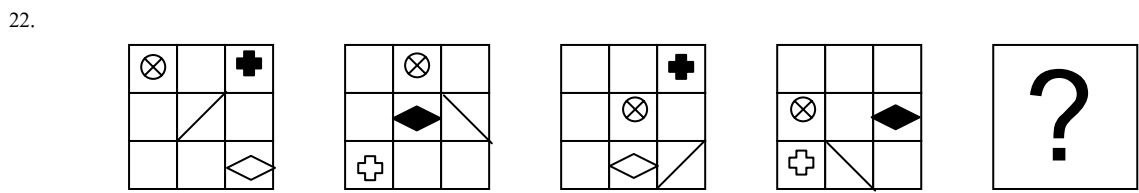


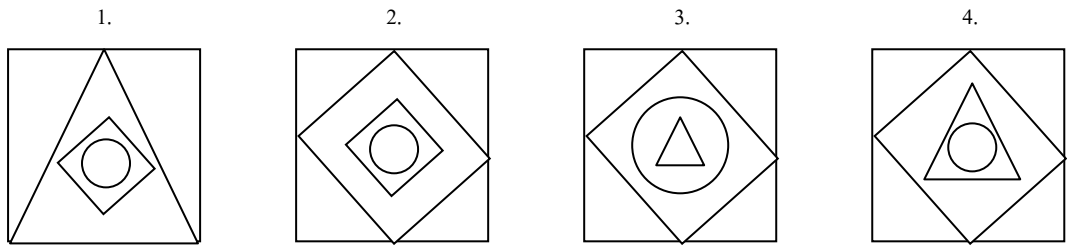
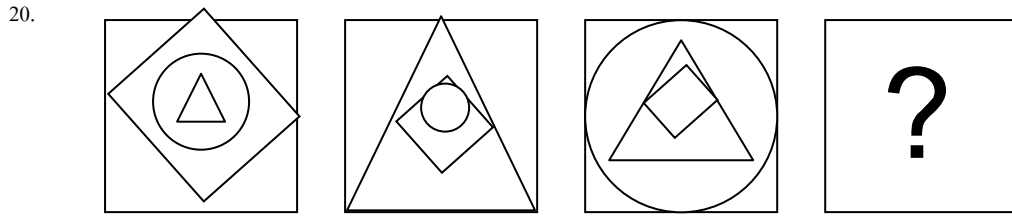
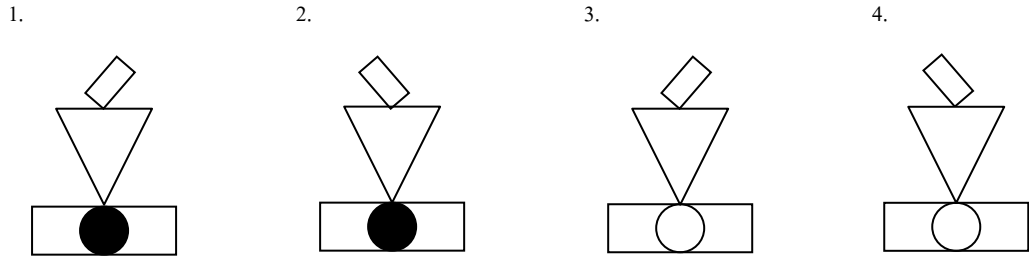
1. 15	2. 16	3. 17	4. 18
-------	-------	-------	-------

คำชี้แจง สำหรับคำถามข้อ 9-10

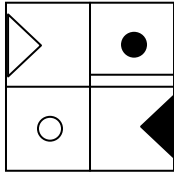
จงพิจารณาความสัมพันธ์ของตัวเลขที่กำหนดให้ แล้วหาคำตอบของตัวเลขที่มีเครื่องหมาย ? ที่มีความสัมพันธ์กัน

- |       |      |   |   |   |      |    |      |      |
|-------|------|---|---|---|------|----|------|------|
| 9. 1  | 1    | 2 | 4 | ? | 11   | 16 | 22   |      |
|       | 1. 6 |   |   |   | 2. 7 |    | 3. 8 | 4. 9 |
| 10. 1 | 1    | 2 | 3 | 5 | ?    | 13 | 21   |      |

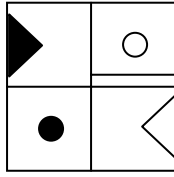




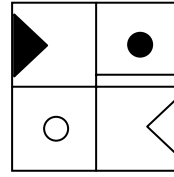
1.



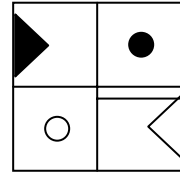
2.




3.



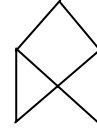
4.



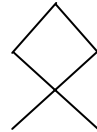
24.



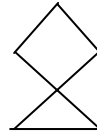
1.



2.




3.



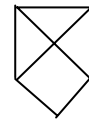
4.



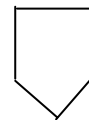
25.



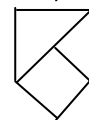
1.



2.



3.



4.

